

ESTUDO DO MEIO

RUBRICA:

NOME: _____ DATA: ____/____/____

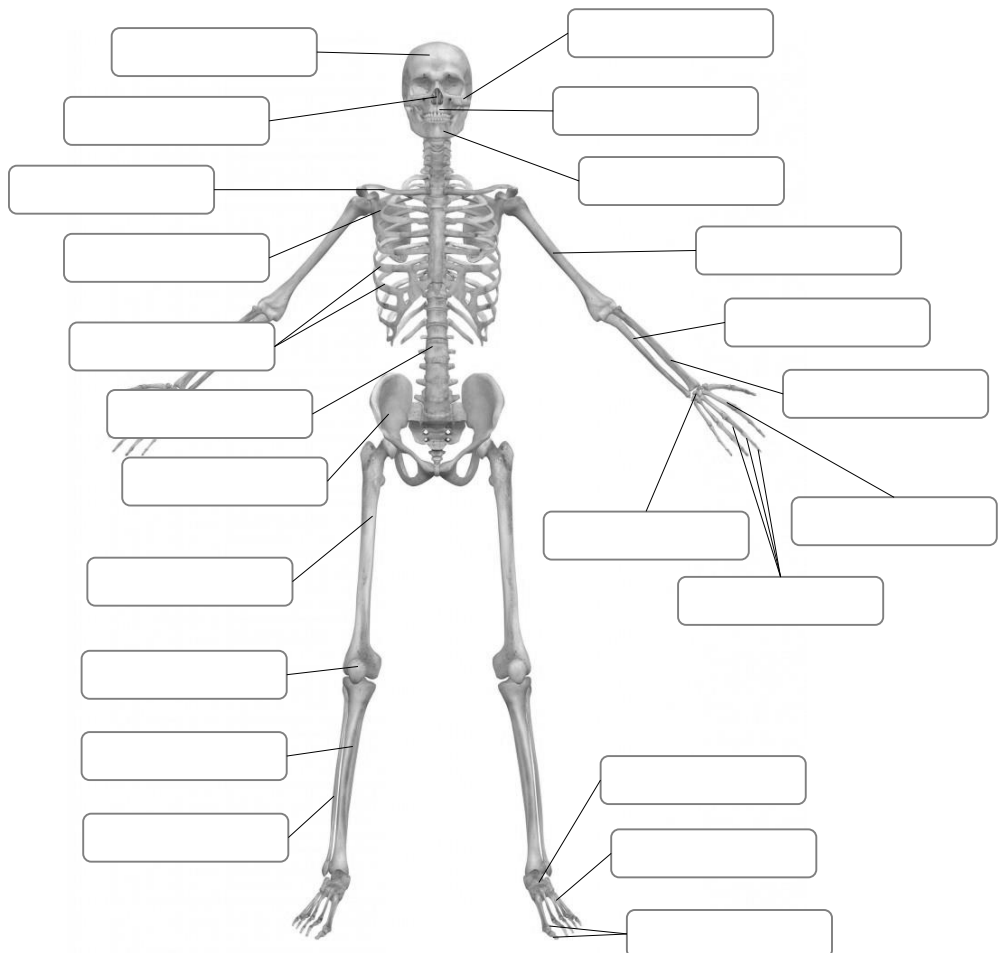
ESCOLA: _____ INFORMAÇÃO: _____

1 – Assinala com um X a afirmação verdadeira:

Ao conjunto de 206 ossos do corpo humano ligados uns aos outros e nas suas corretas posições chamamos...

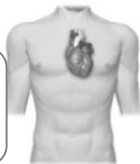
... cabeça. ... articulações. ... esqueleto. **2 – Assinala as quatro funções do esqueleto:** concentração suporte locomoção reserva de sais minerais aquecimento proteção**3 – Lê o nome dos ossos e escreve-os no retângulo correto:**

úmero
 coluna vertebral
 crânio
 fémur
 omoplata
 malar
 cúbito
 carpo
 rótula
 tarso
 clavícula
 nasal
 rádio
 mandíbula
 íliaco
 tíbia
 falanges
 metatarso
 esterno
 maxilar superior
 perónio
 falanges
 costelas
 metacarpo



4 – Risca a opção errada.

Os músculos do coração são voluntários / involuntários



Os músculos do coração são voluntários / involuntários



5 – Liga corretamente.



- Movimento de contração
- Movimento de distensão

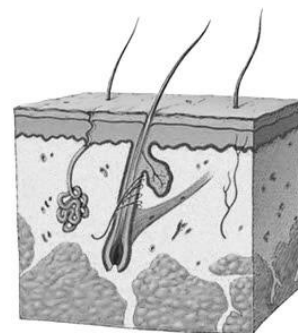


6 – Observa a imagem. Risca a posição errada para erguer a caixa carregada.



7 – Observa e completa:

A pele é formada por duas camadas: a _____
e a _____. As suas funções são a _____,
a _____, a _____ e a _____.



8 – Lê os seguintes conjuntos de comportamentos.

Completa com as palavras **fratura óssea** ou **distensão muscular**.

Em caso de _____

- Colocar a vítima numa posição confortável.
- Aplicar compressas frias sobre a zona afetada.
- Massajar levemente a zona afetada.

Em caso de _____

- Impedir que a vítima faça movimentos ou deslocções.
- Imobilizar a zona do corpo afetada

**9 – Identifica a situação de emergência representada.
Descreve três comportamentos corretos a ter nessa situação.**



Situação:

Regras:


10 – Escreve o século a que pertence cada ano.

ano 455 a. C. = século _____ ano 1800 d. C. = _____

ano 2 d. C. = _____ ano 1799 d. C. = _____

11 – Liga as fontes à sua classificação.

Localizada em Lagos e inaugurada em 1960, esta estátua do Infante D. Henrique é da autoria do escultor Leopoldo de Almeida.



Fonte primária

Fonte secundária

B



Fotografia do foral manuelino da vila de Freixo de Espada à Cinta, datado de 1512.

12 – Observa a imagem. Completa as legendas indicando as características que identificam este tipo de comunidades dos primeiros povos. Lê o exemplo.

Domesticaram animais.



13 – O mapa ao lado representa as regiões onde se fixaram os Iberos e os Celtas. Legenda a imagem.

A – _____

B – _____



13.1 – Mais tarde, estes dois povos fundiram-se, dando origem a um só. Qual o seu nome?

14 – Numera de 1 a 5 os povos que chegaram à Península Ibérica, segundo a ordem cronológica de chegada.

Fenícios, Gregos e Cartagineses

Muçulmanos

Romanos

Iberos e Celtas

Suevos e Visigodos

15 – Indica três marcas da presença romana na Península Ibérica.

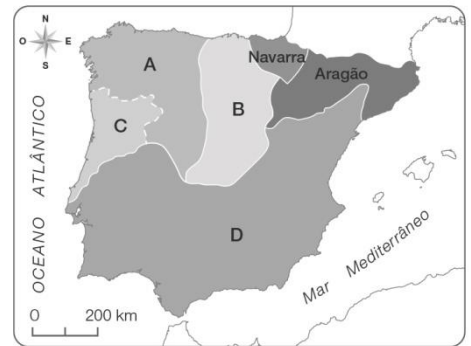
16 – Observa o mapa ao lado.

Assinala com X o nome do processo histórico que possibilitou a formação dos reinos da Península Ibérica.

Reconquista Muçulmana

Reconquista Cristã

Reconquista Romana



16.1 – Legenda o mapa.

A – _____

B – _____

C – _____

D – _____

17 – Completa o texto.

O governo do condado Portucalense, que pertencia ao Reino de _____, foi entregue a um cavaleiro cristão (cruzado) chamado _____ pelo rei _____, como recompensa pela ajuda prestada na luta contra os _____.

18 – Assinala com V (verdadeiras) ou F (falsas) as seguintes afirmações.

- O conde D. Henrique conquistou o Condado Portucalense ao seu sogro, o rei de Leão e Castela.
- O Conde D. Henrique morreu sem conseguir tornar o Condado independente.
- D. Afonso Henriques venceu o exército da sua mãe na Batalha de S. Mamede.
- Foi em 1179 que o rei de Leão e Castela reconheceu o reino de Portugal.
- O Papa só reconheceu a independência de Portugal no século XIII.
- D. Afonso Henriques venceu os Muçulmanos em muitas batalhas, alargando, assim, o território.

19 – Refere as medidas tomadas por D. Dinis para beneficiar a agricultura e valorizar a língua portuguesa.

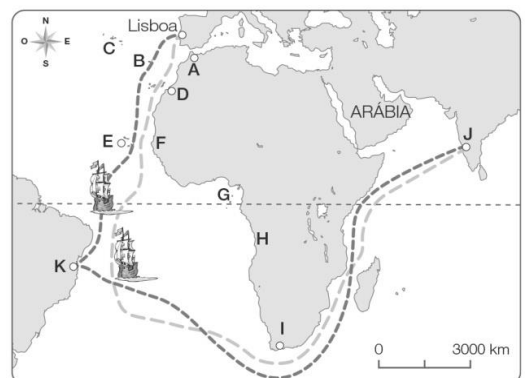


20 – Liga as personagens aos papéis desempenhados na crise de 1383-1385.

- | | | |
|--|---|---|
| <input type="text" value="D. Fernando"/> | • | • Casado com D. Beatriz, queria ser rei de Portugal. |
| <input type="text" value="D. Leonor Teles"/> | • | • Morreu, deixando como sucessora a sua filha, D. Beatriz. |
| <input type="text" value="D. João, rei de Castela"/> | • | • Expulsou D. Leonor Teles, venceu os Castelhanos e tornou-se rei. |
| <input type="text" value="D. João, Mestre de Avis"/> | • | • Comandou o exército português na Batalha de Aljubarrota. |
| <input type="text" value="D. Nuno Álvares Pereira"/> | • | • Defendeu o direito ao trono da sua filha, D. Beatriz, e do genro, o rei de Castela. |

21 – No mapa, as letras correspondem a locais descobertos ou conquistados pelos Portugueses. Completa a legenda com os nomes dos locais.

- | | |
|-----------|-----------|
| A – _____ | F – _____ |
| B – _____ | G – _____ |
| C – _____ | H – _____ |
| D – _____ | I – _____ |
| E – _____ | J – _____ |
| | K – _____ |



22 – Quem foi o grande impulsionador das descobertas marítimas?

23 – Indica o nome da personalidade histórica representada na imagem.



23.1 – Como se chama a obra onde escreveu os feitos dos Portugueses.

24 – Faz corresponder cada classe social da época medieval ao trabalho desempenhado.

- | | | | |
|--------------------------------------|---|---|---|
| <input type="text" value="Clero"/> | • | • | trabalhava a terra. |
| <input type="text" value="Nobreza"/> | • | • | ajudava a governar e ocupava-se das funções religiosas. |
| <input type="text" value="Povo"/> | • | • | governava e defendia o território. |

25 – Liga com setas as personagens, as datas e os acontecimentos que se relacionam.

Personalidades

Datas

Acontecimentos

- | | | | | | | |
|---|---|---|-----------------------------------|---|---|---|
| <input type="text" value="D. Sebastião"/> | • | • | <input type="text" value="1640"/> | • | • | <input type="text" value="Início da construção do convento de Mafra."/> |
| <input type="text" value="D. João IV"/> | • | • | <input type="text" value="1807"/> | • | • | <input type="text" value="Participou na Restauração da Independência de Portugal, tornando-se rei."/> |
| <input type="text" value="D. João V"/> | • | • | <input type="text" value="1580"/> | • | • | <input type="text" value="Como príncipe, refugiou-se no Brasil, devido às invasões Francesas."/> |
| <input type="text" value="D. Filipe I"/> | • | • | <input type="text" value="1717"/> | • | • | <input type="text" value="Rei de Espanha que se tornou também rei de Portugal."/> |
| <input type="text" value="D. João VI"/> | • | • | <input type="text" value="1578"/> | • | • | <input type="text" value="Morreu em Alcácer Quibir, deixando um problema de sucessão."/> |

26 – Faz a correspondência correta.

- | | | | |
|---|---|---|---|
| <input type="text" value="1ª Dinastia"/> | <input type="text" value="2ª Dinastia"/> | <input type="text" value="3ª Dinastia"/> | <input type="text" value="4ª Dinastia"/> |
| • | • | • | • |
| • | • | • | • |
| <input type="text" value="Dinastia de Avis"/> | <input type="text" value="Dinastia de Afonsina"/> | <input type="text" value="Dinastia de Bragança"/> | <input type="text" value="Dinastia de Filipina"/> |