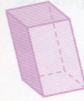







Prismas e Pirâmides



Observa as seguintes tabelas, copia-as para o teu caderno (**não precisas de desenhar os sólidos**) e completa-as.

Elementos dos prismas			
Prismas			
N.º de arestas da base			
N.º de faces			
N.º de arestas			
N.º de vértices			

Elementos das pirâmides			
Pirâmides			
N.º de arestas da base			
N.º de faces			
N.º de arestas			
N.º de vértices			