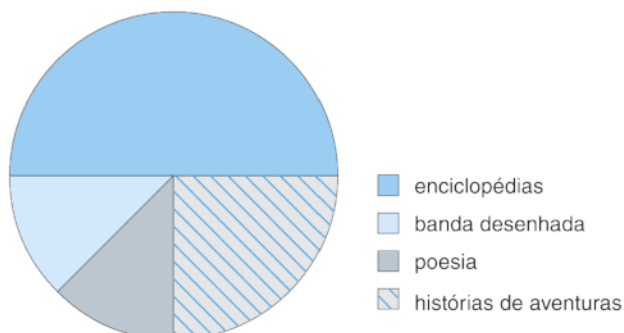


- 1 Na biblioteca de uma escola realizou-se um inquérito a 128 alunos sobre as preferências de leitura. Com os resultados elaboraram o seguinte gráfico circular, que mostra como se distribuíram as suas escolhas.



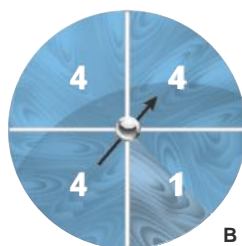
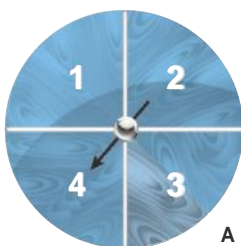
- Qual foi a moda das preferências de leitura dos alunos inquiridos?
- Quantos alunos escolheram a leitura de enciclopédias?
- Escreve a fração que representa o número de alunos que escolheu a leitura de enciclopédias.
- Quantos alunos escolheram a leitura de histórias de aventuras? Escreve a fração correspondente.
- Quais os tipos de leitura que tiveram o mesmo número de escolhas?

- 2 O Tiago lançou um dado de pintas. Escreve, à frente de cada afirmação, as palavras **possível**, **impossível** ou **certo**, relativamente aos lançamentos do dado.

- Pode sair um número de pintas par menor do que 2.
- Pode sair um número de pintas menor do que 7.
- Podem sair 4 pintas.
- Pode sair um número de pintas maior do que 6.
- Pode sair um número ímpar de pintas.



- 3 Observa as três roletas e responde.



- Indica em qual das roletas é **impossível** sair um 2.
- Em qual das roletas é **mais provável** sair um 2?
- Em qual das roletas é **certo** sair um 2, um 3 ou um 4?