



Sequências

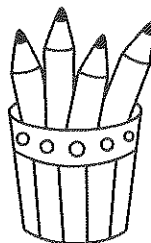
- Descubra a regra em cada situação.



Número de sacos	1	2	3	4
Número de berlindes	2			



Número de jarras	1	2	3	4
Número de flores	3			



Número de suporte de lápis	1	2	3	4
Número de lápis	4			

- Continua as várias sequências.

0, 2, 4, _____, _____, _____, _____

20, 19, 18, _____, _____, _____, _____

12, 10, 8, _____, _____, _____, _____

1 + 1, 2 + 2, 3 + 3, _____, _____, _____, _____