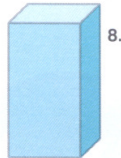
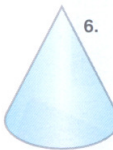
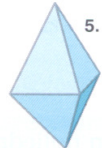

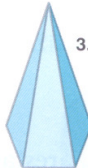
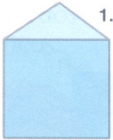


Quem é quem?

Adivinha quem é quem! Para cada “pista” escolhe os sólidos que têm essas características. Atenção às rasteiras!



- A nossa superfície é formada apenas por figuras planas.
- Na nossa superfície há porções de superfície curva.
- Temos faces que são rectângulos.
- Temos faces que são triângulos.