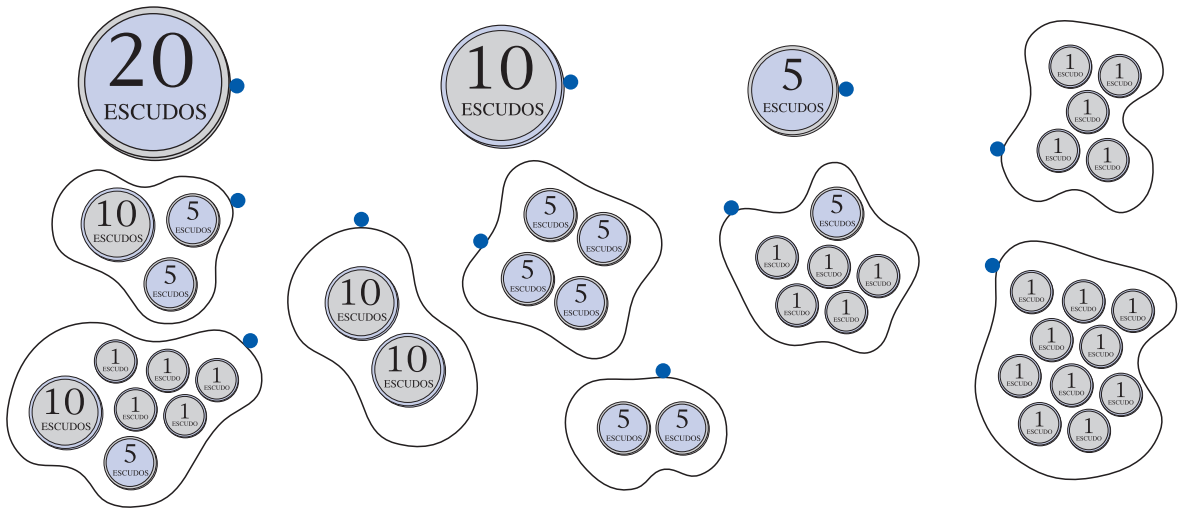



9 Problemas

- Ligar a figura de cada moeda ao conjunto de moedas que têm o mesmo valor.




- Ler e completar com o dinheiro que tem cada mealheiro.



Tem 3 moedas de 5 escudos.
Tem _____ escudos.

B



Tem 7 moedas de 1 escudo e 1 moeda de 10 escudos.
Tem _____ escudos.

C



Tem 2 moedas de 10 escudos.
Tem _____ escudos.

- Ler e completar.

O mealheiro B tem mais _____ escudos que o mealheiro A e tem menos _____ escudos que o mealheiro C.