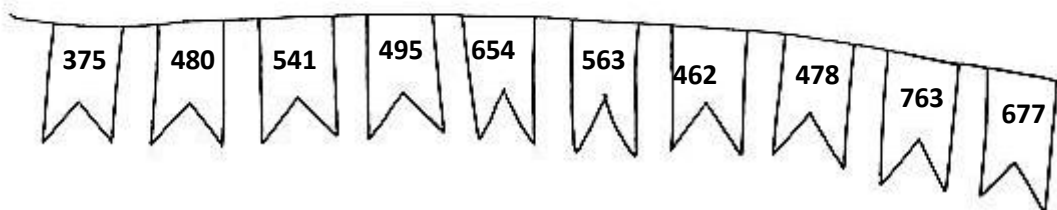
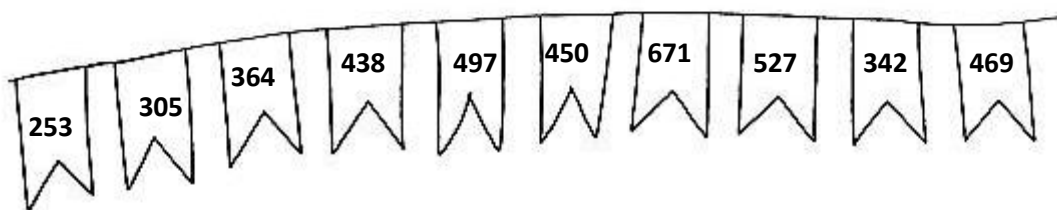
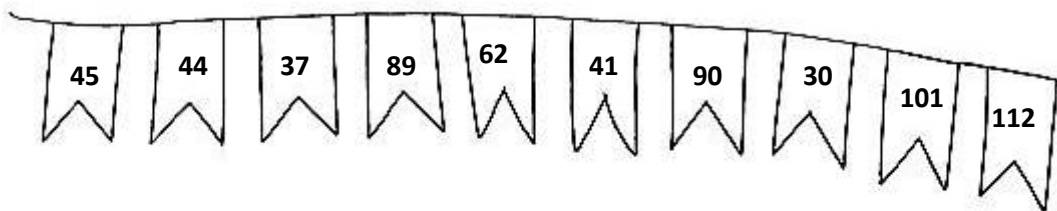


Matemática

Nome: _____ Data: ____/____/____

1 – Pinta de vermelho os números pares e, de amarelo, os números ímpares.



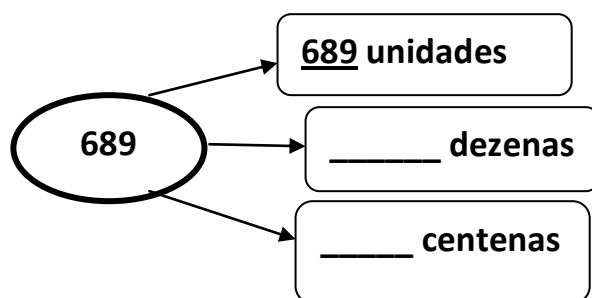
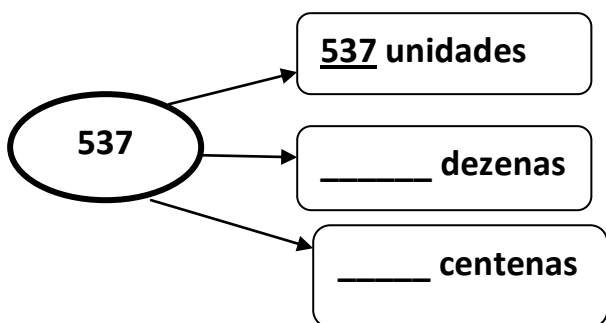
2 – Completa as frases com:

Algarismo, unidades, 0, 1, 2, 3, 4, 5, 6, 7, 8, 9

Os números pares são aqueles cujo _____ das _____ é: o _____, o _____, o _____, o _____ e o _____.

Os números ímpares são aqueles cujo _____ das _____ é: o _____, o _____, o _____, o _____ e o _____.

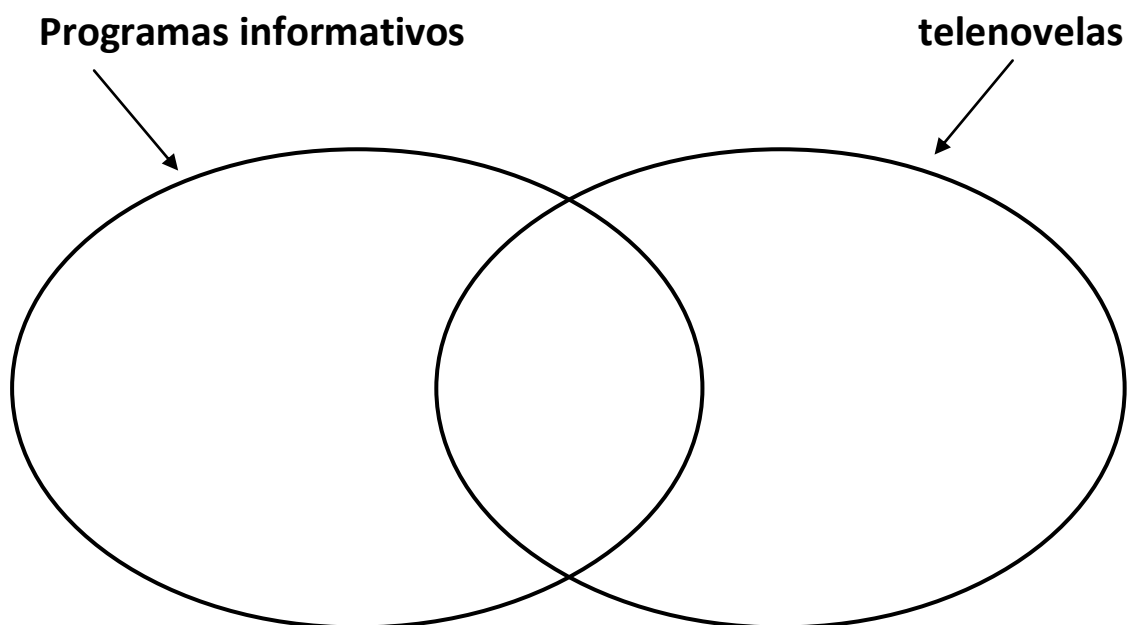
3 – Completa.



4 – Observa a tabela seguinte onde estão distribuídos os programas preferidos de 5 famílias por programas informativos ou telenovelas.

Família	Programas informativos	telenovelas
Carvalho	X	
Rodrigues	X	
Sousa	X	X
Almeida		X
Ferreira	X	X

4.1 - Completa o Diagrama de Venn, escrevendo nos locais corretos o nome das famílias, de acordo com as suas preferências televisivas:



5 – Liga cada moeda ao respetivo valor.

10 cêntimos ●



● 20 cêntimos

2 euros ●



● 1 cêntimo

2 cêntimos ●



● 1 euro

50 cêntimos ●



● 5 cêntimos