



NOME

AVALIAÇÃO

N.º

TURMA

DATA

-

-

ENC. EDUC.

1. Na construção de uma escola foram usados muitos tijolos. Os tijolos foram transportados em carrinhas com dez mil tijolos cada. Se à obra chegarem 10 carrinhas, **quantos** tijolos poderão ser utilizados? Mostra como pensaste.

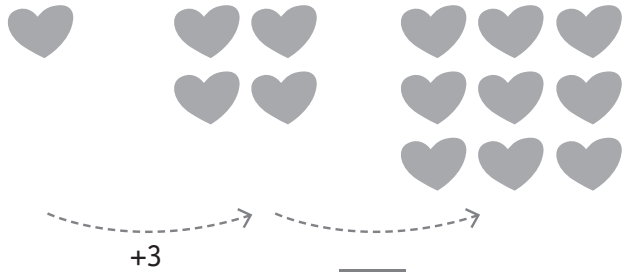
2. O Ulisses foi com os pais fazer uma viagem a Espanha. O pai do Ulisses encheu o depósito 4 vezes e de cada vez colocou 145 litros de gasolina. Sabendo que cada litro de gasolina custava 1,10 euros, calcula **quanto** dinheiro gastou.

3. O elevador do prédio do Dorin transporta 8 pessoas de cada vez. Hoje já transportou 96 pessoas e ia sempre cheio. **Quantas** viagens terá feito?




4. **Completa** a tabela.

	× 10	× 100	× 1000
15			
	1670		
21			
			18 000

5. **Descobre** a sequência e continua-a com as 2 figuras que se seguem.



6. A Ana faz colecção de selos. Observa a tabela e descobre **quantos** selos de países de África ela tem.

Angola	
Moçambique	
Cabo Verde	

 = 50

Angola


Moçambique

Cabo Verde

6.1 Qual é a diferença entre os selos que existem em maior quantidade e os que existem em menor quantidade? **Regista** o teu raciocínio.

6.2 A que parte desta colecção correspondem os selos de Moçambique?

6.3 **Elabora** um gráfico circular que represente a colecção de selos de África da Ana. Legendá-o.



7. **Completa.**

\times	2	3	4	5	6	7	8	9	10	11
7										
8										