

Já sei. 😊

Tenho que praticar. 😐

Ainda não sei. ☹️

Nome _____ Data ____ / ____ / ____

Números de 500 até ao 700

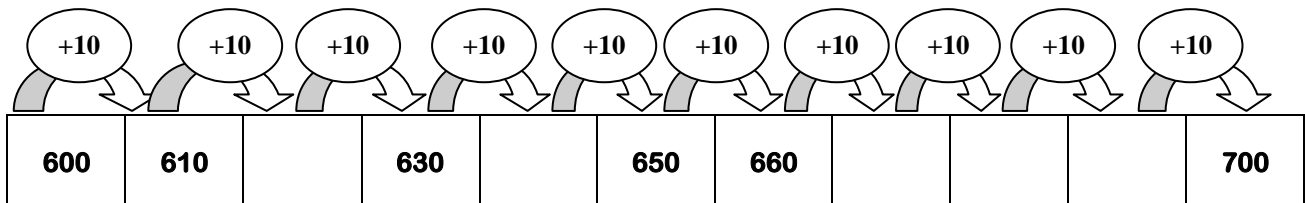


Completa a tabela. Pinta os números pares a amarelo e os ímpares a verde.

500		502		504		506		508	
	511		513		515		517		519
520		522		524		526		528	
	531		533		535		537		539
540		542		544		546		548	
	551		553		555		557		559
560		562		564		566		568	
	571		573		575		577		579
580		582		584		586		588	
	591		593		595		597		599
600		602		604		606		608	
	611		613		615		617		619
620		622		624		626		628	
	631		633		635		637		639
640		642		644		646		648	
	651		653		655		657		659
660		662		664		666		668	
	671		673		675		677		679
680		682		684		686		688	
	691		693		695		697		699
700									



Completa a sequência.



Escreve o número anterior e o seguinte.

	< 599 <	
	< 624 <	

	< 589 <	
	< 547 <	

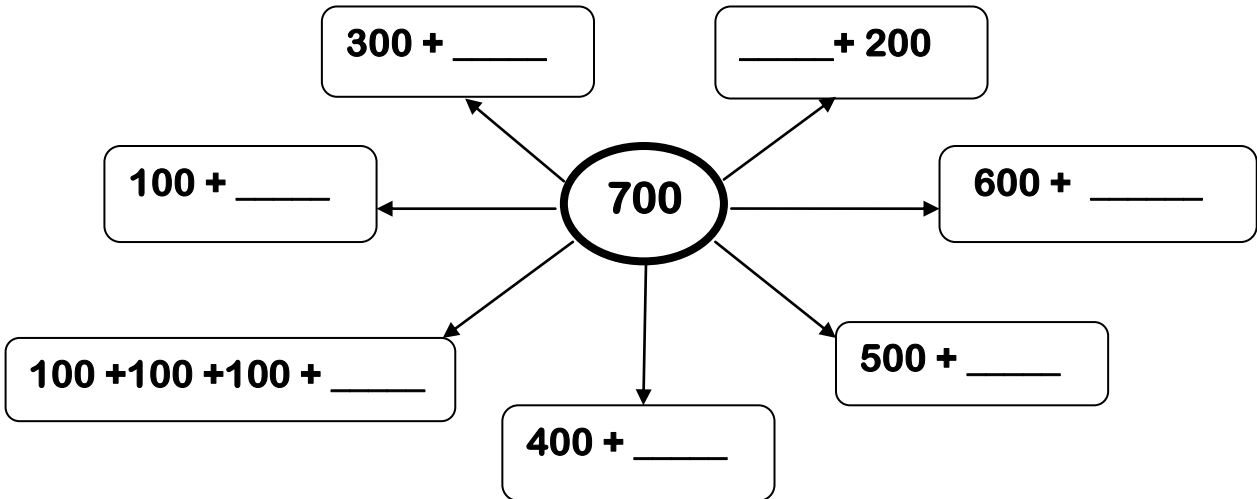
	< 689 <	
	< 699 <	




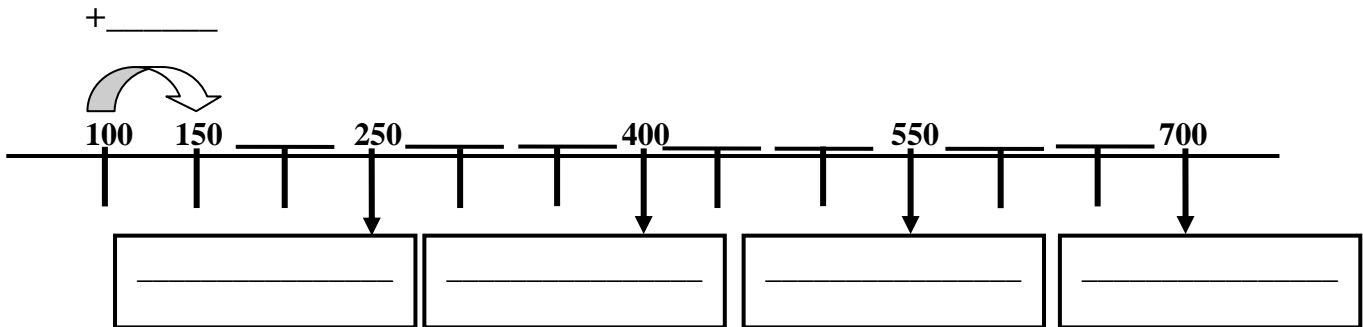
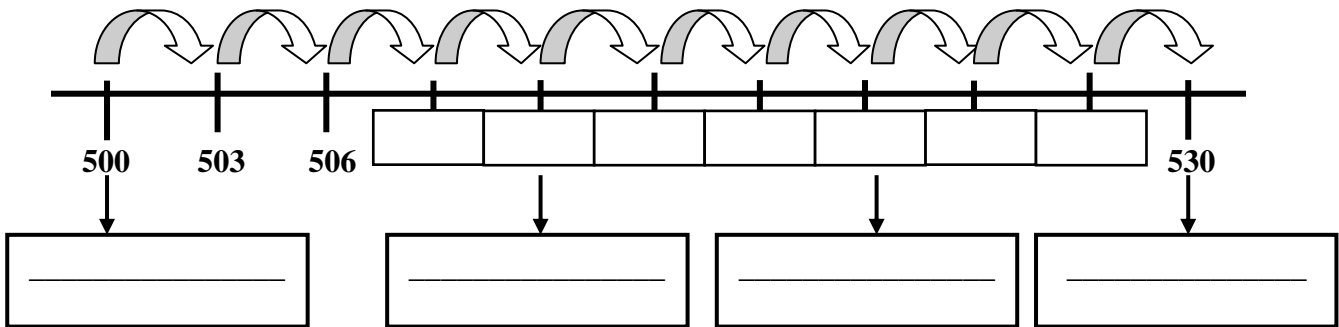
Decompõe e lê os números por ordens.


C	D	U	Decompõe:	Leitura por ordens:
5	2	3	_____ + _____ + _____ = _____	
6	7	1	_____ + _____ + _____ = _____	
6	5	4	_____ + _____ + _____ = _____	

 **Completa.**



 **Faz a leitura por extenso dos números indicados pelas setas.**



 **Descobre o valor de acordo com a posição dos algarismos:**

C	D	U
6	4	2

O 6 é o algarismo das _____ e vale _____ unidades.

O 4 é o algarismo das _____ e vale _____ unidades.

O 2 é o algarismo das _____ e vale _____ Unidades.



- Efetua as operações.

487 - 142 = _____

C	D	U
=		

389 - 35 = _____

C	D	U
=		

434 + 265 = _____

C	D	U
+		

515 + 162 = _____

C	D	U
+		



- Ordena os resultados das contas por ordem decrescente.

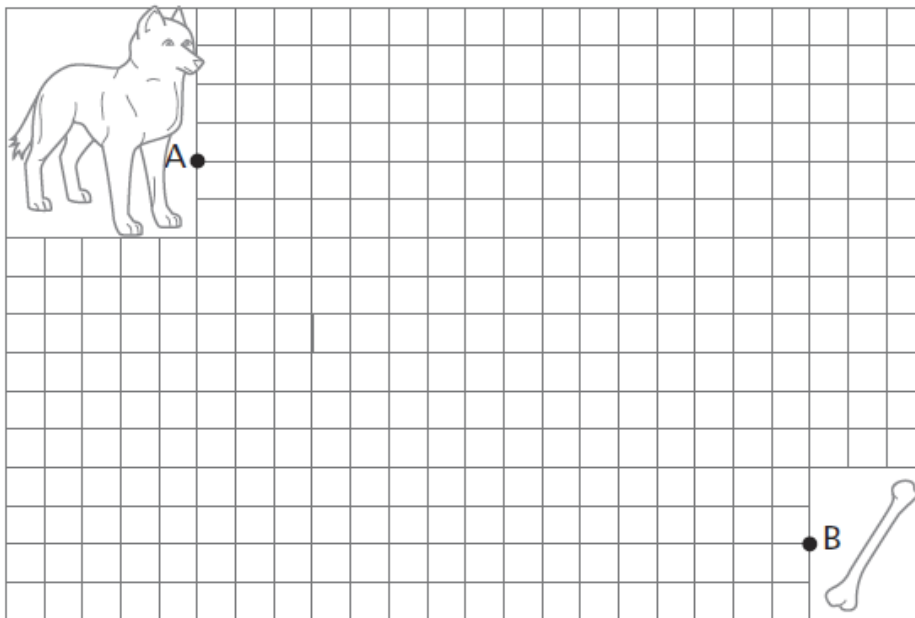
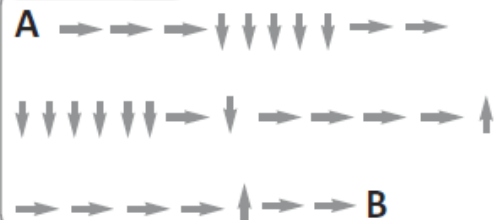
_____ > _____ > _____ > _____

Traça o itinerário indicado, de acordo com o código, partindo do ponto **A**, até ao ponto **B**.

Código

- Uma quadrícula para a direita.
- ← Uma quadrícula para a esquerda.
- ↑ Uma quadrícula para cima.
- ↓ Uma quadrícula para baixo.

Itinerário



A mãe da Célia deu 2 dúzias de lápis de cor à filha e uma dezena de lápis de cera ao seu afilhado Jorge. Que quantidade de lápis deu aos dois meninos?



R: _____