



NOME

AVALIAÇÃO

N.º

TURMA

DATA

-

-

ENC. EDUC.

1. A Estrela e a irmã vão partilhar igualmente esta caixa de bolachas. **Quantas** bolachas comerá cada uma?




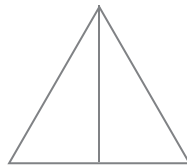
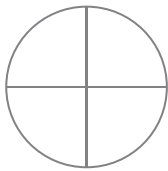
- 1.1 Seis bolachas correspondem a que parte das bolachas da caixa? **Pinta** a opção correcta.

Terça parte

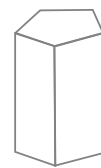
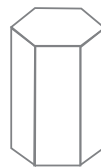
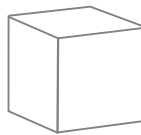
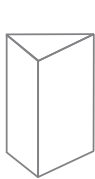
Metade

Quarta parte

2. **Pinta** metade de cada figura.



3. Separa os poliedros que se seguem em dois grupos (prismas e pirâmides), **ligando-os** aos respectivos cestos.



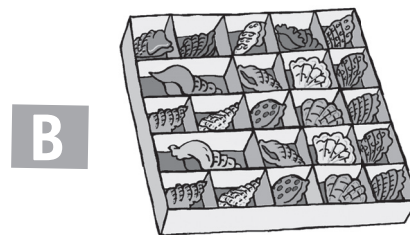

prismas



pirâmides

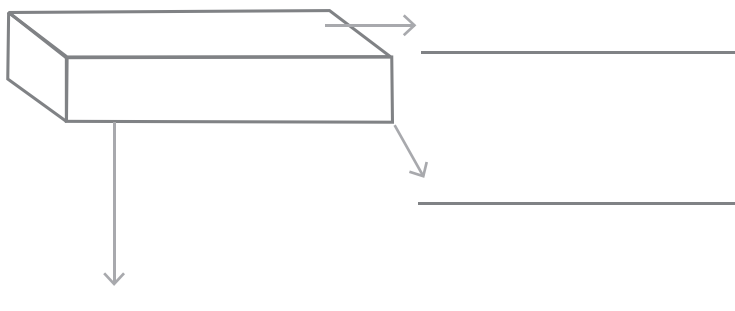
4. A cantina da escola serviu durante o mês de Fevereiro 1576 sumos de laranja, 859 de ananás, 1300 limonadas e 930 sumos de manga. **Calcula** o total de sumos que foram servidos na cantina.

5. Observa duas caixas onde o Ulisses guarda as suas conchas. **Quantas** conchas estão em cada caixa? Explica o teu raciocínio e regista os teus cálculos.



- 5.1 Se ele tiver 3 caixas iguais à caixa A e 2 caixas iguais à caixa B, **quantas** conchas tem na sua colecção?

6. Observa a imagem e legenda-a. **Completa.**



Número de faces:

Número de arestas:

Número de vértices:

Nome: _____