




Nome: _____

Data: _____


1. Desenha menos elementos do que os que estão representados em cada conjunto.



2. Relaciona o número de figuras com o número de pintas.





3. Assinala com **X** o conjunto que tem mais elementos.



4. Pinta um por cada  .



5. Pinta o (círculo) do grupo que tem mais coelhos.



6. Circunda o brinquedo que tem mais rodas.

